




யா/ஹாட்லிக் கல்லூரி,பருத்தித்துறை.
J/ Hartley College, Point Pedro.



முதலாம் தவணைப் பரீட்சை-2020-தரம் 07
First Term Examination - 2020-Grade 07

சித்திரம்

43

T

I, II

2 மணித்தியாலம் 30 நிமிடங்கள்
2hours 30 Mins

கட்டெண்
Index No

--	--	--	--	--

சித்திரம்

பகுதி - I

❖ 5 வரையான வினாக்களுக்கு சரியான விடையைத் தெரிவு செய்க

1. மூலவர்ணங்கள் மூன்றையும் கலக்கும் போது பெறப்படும் வர்ணம் யாது?

1. சிவப்பு 2. பச்சை 3. கபிலம் 4. கறுப்பு

2. தாதுகோபத்தின் வடிவத்தின் அடையாளம் காணும் பகுதி

1. அண்டம் 2. படிக்கட்டு
3. சிகரம் 4. பாதுகாப்பு வளையம்

3. அச்சப்பதித்தல் என்பது

1. கிரமிக் சித்திரம் 2. அலங்காரச்சித்திரம் 3. இரேகைச் சித்திரம் 4. ஒட்டுச்சித்திரம்

4. நீர் வர்ணத்தை பிரயோகிக்கும் போது ஒரு வர்ணத்தின் இளம்சாயல் வர்ணத்தைப் பெற எவ்வர்ணத்தை கலக்க வேண்டும்?


1. கறுப்பு 2. வெள்ளை 3. மஞ்சள் 4. கபிலம்

5. அலையின் போக்கை காட்டும் இரேகை எது

1. கோண இரேகை 2. அலை இரேகை 3. சதுரம் 4. முட்டை வடிவம்

(5 புள்ளிகள்)

❖ 6 - 10 வரையான வினாக்களுக்கு கீழ்வரும் படத்தினை அடிப்படையாகக் கொண்டு விடை தருக



6. A –
7. B –
8. C –
9. D –
- 10 E –

(10 புள்ளிகள்)

❖ 11 – தொடக்கம் 15 வரையான வினாக்களுக்கு கூற்றுக்கள் சரியாயின் (√) எனவும் பிழையாயின் (×) எனவும் அடையாளமிடுக.

11. இலங்கையில் முதல் முதல் கட்டப்பட்ட தாதுகோபம் தூபராம ஆகும் ()
12. வெப்ப வர்ணங்களை பின்செல்லும் வர்ணங்கள் எனவும் அழைப்பர் ()
13. பொம்மலாட்டக்கலையில் ஒளிநிழலில் அசைவைக்காட்டும் பொம்மையை கைப்பொம்மை என்பர் ()
14. வரலாற்றுக்கு முற்பட்ட கால குகை ஓவியங்களில் கைப்பதிப்பு ஓவியங்களும் அடங்கும்()
15. தொலைக்காட்சி நாடக பொம்மலாட்டத்தில் கூம்பிச்சி ஒரு பாத்திரமாகும் ()

(5 புள்ளிகள்)

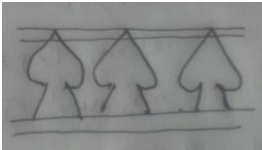
❖ 16 – 20 வரையான வினாக்களுக்கு புள்ளிக்கோட்டில் விடை தருக.

16. தூபியின் வடிவம்




.....

17. என்ன அலங்கார வடிவம்



.....

18. என்ன அலங்கார வடிவம்?



.....

19. வடிவம் எது?



.....

20. எவ்வகை கலைக்குரியது?



.....

(5 புள்ளிகள்)

❖ 21- 25 வரையான வினாக்களை தொடர்பு படுத்துக.

21.



A

பாய்பின்னல் ()


22.



B

தாதூகோப வடிவம் ()

23.



C

குகை ஓவியம் ()

24.



D

இரு பரிமாணம் ()

25.



E

கேது வடிவம் ()

(5புள்ளிகள்)

❖ 26 – 30 வரையான வினாக்களுக்கு கீழ் வரும் படத்தினை கொண்டு விடை தருக.



26. இது எவ்வகைச்சித்திரம்

.....

27. இதன் உயிர்தன்மையை எதனூடாக நிர்மாணிக்கின்றனர்?

.....

28. இதன்மூலம் எவ்வணர்வு வெளிப்படுகின்றது?

.....

29. எவர்களுக்காக இச்சித்திரம் நிர்மாணிக்கப்படுகின்றது?

.....

30. இச்சித்திரங்கள் சிறப்பாக அமைய உதவுகின்றன.

(10 புள்ளிகள்)

பகுதி - II

கீழ்வருவனவற்றை சித்திரமாக வரைந்து ஒளிநிழல் படுத்துக.

சதுர வடிவப்பெட்டி

பந்து



(5 X 2 = 10 புள்ளிகள்)

விரும்பிய தலைப்புக்களில் ஒன்றை தெரிவு செய்து வரைந்து வர்ணம் தீட்டுக.

1. பாடசாலைப்பூந்தோட்டம்
2. வாசனை மலரும் வண்ணத்துப்பூச்சி
3. பட்டம் விடும் சிறுவர்கள்
4. புதிய வடிவிலான முகமுடிச்சித்திரம்
5. “மரம் நடுவோம் பயன்பெறுவோம்” சுவரொட்டி
6. சீத்தை துணி ஒன்றிற்கான அலங்காரம்